

به نام خدا

نام و نام خانوادگی: آزمونک ریاضی پایه دوم دبستان دی ماه

۱- جمع و تفریق های زیر را بدست آورید.

$$\begin{array}{r} 65 \\ + 21 \\ \hline \end{array}$$

$$\begin{array}{r} 57 \\ + 36 \\ \hline \end{array}$$

$$\begin{array}{r} 75 \\ - 32 \\ \hline \end{array}$$

$$\begin{array}{r} 89 \\ - 19 \\ \hline \end{array}$$

۲- جمع و تفریق زیر را به صورت تقریبی به دست آورید.

$$\begin{array}{r} 35 \rightarrow \\ + 52 \rightarrow \\ \hline \end{array}$$

$$\begin{array}{r} 81 \rightarrow \\ - 36 \rightarrow \\ \hline \end{array}$$

۳- با رقم های ۵ و ۰ و ۷ هر چند تا می توانید عدد دو رقمی بنویسید.

۴- مشخص کنید ۷۲ به ۷۰ نزدیک تر است یا به ؟

مشخص کنید ۵۷ به نزدیک تر است یا به ؟

۵- همه ی عددهای دو رقمی که می توان برای یکان ۴ و ۶ و برای دهگان ۷ و ۵ و ۹ باشد بنویسید.



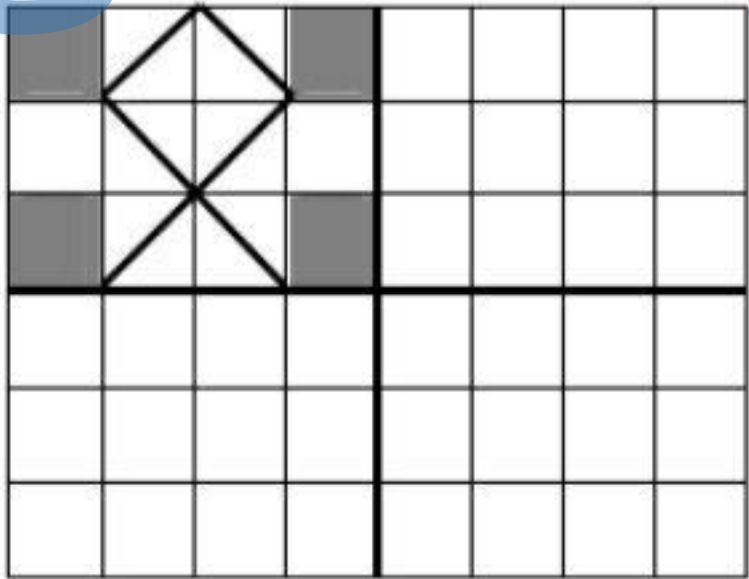
۶- جاهای خالی را کامل کنید.

۴ دسته ی ده تایی به اضافه ی دسته ی ده تایی می شود دسته ی ده تایی.

$$40 + 30 =$$

..... دسته ی ده تایی منهای دسته ی ده تایی می شود دسته ی ده تایی.

$$70 - 20 =$$

۷	<p>علی ۴۸ کتاب داستان داشت . او ۲۵ کتاب را به کتابخانه ی کلاس هدیه داد حالا علی چند کتاب دارد .</p>
۸	<p>اعداد زیر را به رقم و حروف بنویس .</p> <p>پانصد و هفت سیصد و چهل و یک</p> <p>۲۳۶ ۹۰۰</p>
۹	<p>ساعت ها را بخوان و بنویس .</p> <p>یک ساعت بعد از ساعت ۲:۴۵ ساعت چند است ؟</p> <p>نیم ساعت بعد از ساعت ۶:۳۰ ساعت چند است ؟</p> <div style="display: flex; justify-content: space-around; align-items: center;">   </div>
۱۰	<p>کاشی کاری را طوری رنگ بزن که ۴ قسمت شکل کاملاً مثل هم باشد .</p> 

جزوه سیپی